



XVI OBA – PROVA DO NÍVEL 3

(Para alunos do 6º ao 9º ano das escolas nas quais o ensino fundamental é de 9 anos ou alunos da 5ª à 8ª série das escolas nas quais o ensino fundamental ainda tem 8 anos.)

Veja o gabarito em nossa home page www.oba.org.br

Nota de Astronomia: _____ Nota de Energia: _____ **Nota Final:** _____
 Nota de Astronáutica: _____ Visto do(a) Prof(a): _____

Observação: A Nota Final é a soma das notas de Astronomia, de Astronáutica e de Energia.

Dados do(a) aluno(a) (use somente letras de fôrma):

Nome completo:..... Sexo:.....

Endereço: n.º.....

Bairro:..... CEP: _____ - _____ Cidade: Estado: ____

Tel. (____) _____ - _____ E-mail:..... Data de Nascimento ____/____/____
 (use letra de fôrma)

Série/ano que está cursando: Quantas vezes você já participou da OBA?

Declaro que estou realizando esta prova em 10 de maio de 2013.

Assinatura do aluno

Dados da escola onde o(a) aluno(a) estuda:

Nome da escola:.....

Endereço: n.º.....

Bairro:..... CEP: _____ - _____ Cidade: Estado: ____

Data e horário da prova: O horário fica a critério da escola, desde que seja no dia **10/05/2013**.
 Duração máxima desta prova: **3 horas** e não é permitido nenhum tipo de consulta aos colegas, professores ou uso de calculadora.

BOA OLIMPÍADA!

Questão 1) (1 ponto) (0,2 cada acerto) Escreva CERTO ou ERRADO na frente de cada frase.

- A Lua tem 29 fases, mas só quatro têm nomes especiais.
- Os astronautas nunca pousaram na face oculta da Lua.
- Nos equinócios (Sol sobre o Equador Celeste) a noite dura 12 horas.
- No inverno as noites duram mais de 12 horas.
- No verão as noites duram menos de 12 horas.

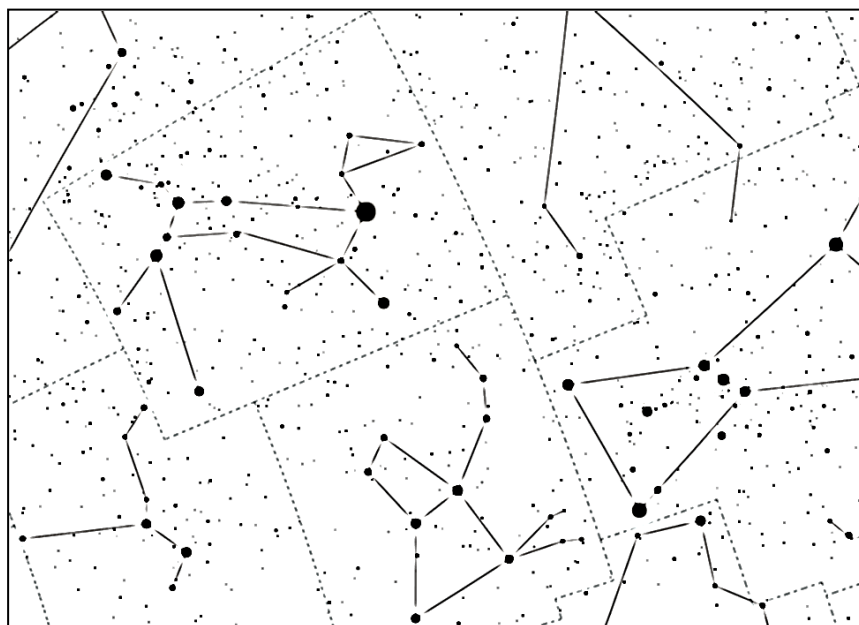
1) - Nota obtida: _____

Questão 2) (1 ponto) (0,2 cada acerto) Escreva CERTO ou ERRADO na frente de cada frase.

- O Sol só pode ser visto a pino entre os Trópicos de Câncer e Capricórnio, mas não todo dia.
- O inverno e o verão dependem da Terra estar mais longe ou mais perto do Sol.
- A região entre os Trópicos de Câncer e Capricórnio chamamos de intertropical.
- O eclipse lunar total é visto por todos que estão na parte noturna da Terra.
- O Sol não ilumina a Lua em sua fase nova.

2) - Nota obtida: _____

Questão 3) (1 ponto) Todo o céu foi dividido em 88 áreas de diferentes tamanhos, às quais chamamos de constelações. Todas as estrelas dentro de uma mesma área pertencem à mesma constelação. Ao lado, vemos a representação de uma parte do céu. A imagem foi obtida com o software gratuito “Stellarium” e nela quanto maior o ponto mais brilhante é a estrela.



Pergunta 3a) (0,5 ponto) Faça uma seta → indicando a estrela Sirius, a qual é a mais brilhante de todo o céu noturno e a quinta mais próxima do Sol. Ajuda: Ela fica na área da constelação do Cão Maior. Até desenhamos o “esqueleto” dele para ajudar.

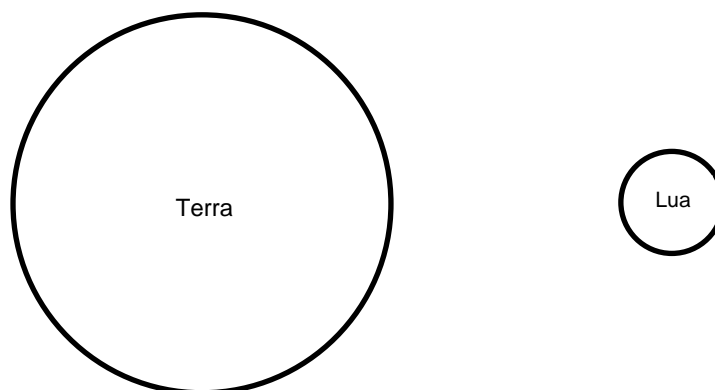
3a) – Nota obtida: _____

Pergunta 3b) (0,5 ponto) Na área da constelação do Cão Maior os gregos antigos “viam” um cachorro. Pinte de qualquer cor, toda a constelação do Cão Maior.

3b) – Nota obtida: _____

Questão 4) (1 ponto) Aparentemente a Lua e o Sol têm o mesmo tamanho, pelo menos é o que parece quando comparamos os dois lá no céu, mas isso porque a Lua está muito mais próxima da Terra.

Pergunta 4a) (0,5 ponto) Sabemos que o diâmetro aproximado da Terra é 12.756 km e o da Lua é de 3.476 km. Usamos estes dados para fazer a figura ao lado. Quantas vezes o diâmetro da Terra é maior do que o da Lua? Se preferir, use a régua ao lado. Abaixo tem espaço para suas contas.



Resposta 4a):

4a) – Nota obtida: _____

Pergunta 4b) (0,5 ponto) A distância entre as superfícies da Terra e da Lua é de aproximadamente 384.000 km. Quantas Terras caberiam enfileiradas, lado a lado, entre ambas?


Espaço para contas:

Resposta 4b):

4b) – Nota obtida: _____

Questão 5) (1 ponto) Atenção: Alunos do 6º e 7º anos só podem responder ao item 5a e os alunos do 8º e 9º anos só podem responder ao item 5b!

Pergunta 5a) (0,25 cada acerto) Abaixo estão imagens de: Lua, Galáxia, Aglomerados de Estrelas e Nuvem interestelar. Coloque o nome correto debaixo de cada imagem.



5a) – Nota obtida: _____

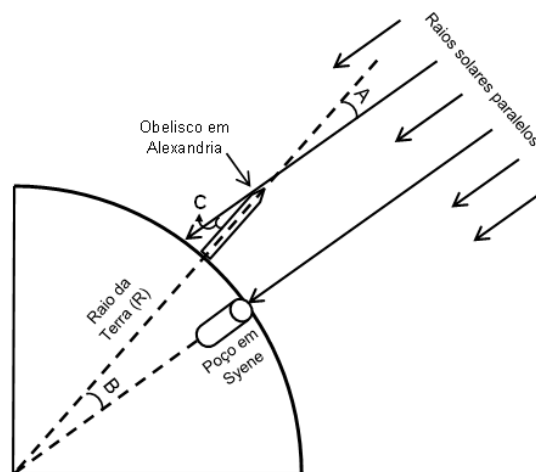
.....

.....

.....

.....

Pergunta 5b) (1 ponto) Num círculo, de raio R , seu comprimento mede $2\pi R$, (use $\pi = 3$) e temos 360 graus. Eratóstenes (cerca de 276 a.C. – 193 a.C.), sábio grego, nascido em Cirene e falecido em Alexandria, diretor da grande biblioteca desta cidade, no Egito, sabia disso. E também sabia que num certo dia, ao meio dia, em Syene, atual Assuã, uma cidade a 800 km de Alexandria, ao Sul do Egito, o Sol incidia diretamente no fundo de um poço e nenhum obelisco projetava sombra neste instante. Porém no mesmo dia, em Alexandria, um obelisco projetava uma sombra! Tal fato só seria possível se a Terra fosse esférica, concluiu ele. Eratóstenes mediu o ângulo C , indicado na figura e encontrou o valor de 7° (sete graus). Com isso ele determinou o raio da Terra (R). Determine o valor encontrado por Eratóstenes para o raio da Terra. *Dica: só tem uma regra de três para fazer. Espaço para suas contas.*

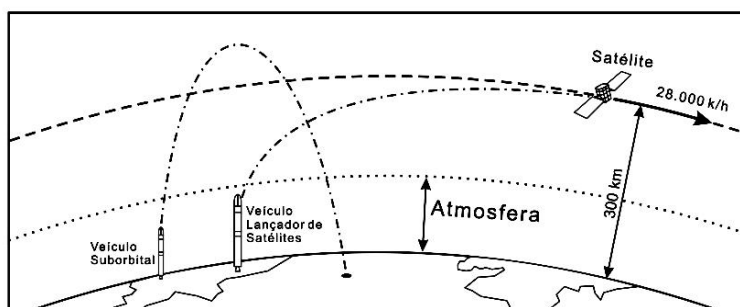


Resposta 5b):

5b) - Nota obtida: _____

AQUI COMEÇAM AS QUESTÕES DE ASTRONÁUTICA

Questão 6) (1 ponto) Foguetes são veículos destinados ao transporte de cargas e pessoas ao espaço. Dependendo da quantidade de combustível utilizado, podem atingir a velocidade de 28.000 km/h e colocar satélites em órbita da Terra, conforme ilustrado na figura ao lado. Tais foguetes são chamados veículos orbitais. Há foguetes que atingem altitudes superiores a 300 km, mas não atingem a velocidade orbital de 28.000 km/h. Por isso, retornam à superfície terrestre, sendo conhecidos como veículos suborbitais.



O Instituto de Aeronáutica e Espaço (IAE), localizado na cidade de São José dos Campos, SP, desenvolve uma família de foguetes, tais como: VS-30, VSB-30 e VS-40. Lá também é desenvolvido o Veículo Lançador de Satélites (VLS-1), capaz

de colocar um satélite de 350 kg em uma órbita de 300 km acima da superfície da Terra. A tabela abaixo apresenta as velocidades máximas dos veículos espaciais produzidos pelo Brasil.

Pergunta 6a) (0,4 ponto - 0,1 cada acerto) Escreva debaixo de cada tipo de foguete se ele é orbital ou suborbital.

Veículo	VS-30	VSB-30	VS-40	VLS-1
Velocidade máxima (km/h)	6.000	7.200	9.720	28.000

Respostas 6a):

6a) - Nota obtida: _____

Pergunta 6b) (0,3 ponto) Se você tivesse que dar uma volta completa em torno da Terra no menor tempo possível, qual dos veículos listados você escolheria?

Resposta 6b):

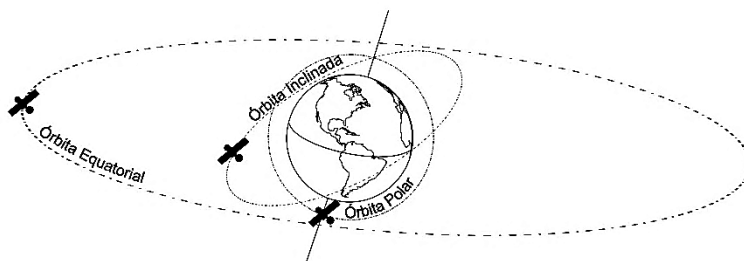
6b) - Nota obtida: _____

Pergunta 6c) (0,3 ponto) Baseado na sua resposta ao item anterior, calcule o tempo necessário, em horas, para completar um giro em torno da Terra, sabendo que a distância a ser percorrida é de 40.000 km. *Espaço para suas contas.*

Resposta 6c):

6c) - Nota obtida: _____

Questão 7) (1 ponto) Desde que a União Soviética colocou em órbita o satélite Sputnik, em 1957, quase seis mil satélites foram lançados ao espaço. Em média são colocados em órbita dois satélites por semana. Dentre as aplicações desses satélites, vale destacar: Comunicações, Meteorologia, Observação da Terra, Transmissão de Dados e Sistema de Posicionamento Global, conhecidos no mundo ocidental pela sigla GPS. As linhas tracejadas mostradas na figura ilustram as órbitas de satélites em torno da Terra. As órbitas polares são aquelas que passam pelos polos Norte e Sul da Terra. Os satélites de **Observação da Terra** fazem uso de órbitas polares distantes cerca de 800 km da superfície da Terra. Tais órbitas também são utilizadas pelos satélites **Militares**, que neste caso situam-se a cerca de 500 km de altitude. Órbitas equatoriais são típicas de satélites de **Comunicações**, que se encontram a aproximadamente 35.800 km da superfície terrestre. Como o nome sugere, essas órbitas encontram-se no plano do Equador terrestre. As órbitas inclinadas são aquelas situadas entre as órbitas polares e equatoriais, sendo bastante utilizadas por satélites de **Coleta de Dados**, que se encontram abaixo dos 1.000 km de altitude.



Pergunta 7a) (0,6 ponto) Considerando-se que o ano tem cerca de 52 semanas, quantos satélites em média serão lançados entre 1 de janeiro e 31 de dezembro deste ano? *Espaço para suas contas.*

Resposta 7a):

7a) - Nota obtida: _____

Pergunta 7b) (0,4 ponto – 0,1 cada acerto) Baseado no enunciado da questão e nos dados apresentados na tabela, escreva na frente de cada satélite a sua aplicação (Militar, Comunicações, Coleta de dados e Observação da Terra). Vale destacar que dentre os satélites da lista, o CBERS-3 é o quarto satélite de uma série desenvolvida pela parceria entre Brasil e China. Já foram lançados o CBERS-1 (1999), o CBERS-2 (2003) e o CBERS-2B (2007). O CBERS-3 deverá ser lançado em 2013. O SCD-2 foi o segundo satélite integralmente desenvolvido no Brasil, e seu lançamento ocorreu em 1998.

Aplicação	Nome do Satélite	Tipo de órbita	Altitude média (km)
.....	CBERS-3	Polar	780
.....	Star One C3	Equatorial	35.800
.....	SCD-2	Inclinada	750
.....	Yaogan 13	Polar	500

7b) - Nota obtida: _____

Questão 8) (1 ponto) Bioma é um conjunto de tipos de vegetações definidas por condições específicas de clima, relevo, rochas e solos. No território brasileiro destacam-se os biomas: Amazônia, Cerrado, Mata Atlântica, Caatinga, Pampa e Pantanal. O Instituto Nacional de Pesquisas Espaciais (INPE) utiliza imagens de satélites para mapear e monitorar biomas por meio dos projetos PRODES (Projeto de Monitoramento do Desflorestamento na Amazônia Legal) e Atlas dos Remanescentes Florestais da Mata Atlântica. A Tabela mostra os resultados obtidos pelo PRODES entre os anos de 2004 e 2012, para as áreas desmatadas na Amazônia Legal (Acre, Amazonas, Amapá, Maranhão, Mato Grosso, Pará, Rondônia, Roraima e Tocantins).

Ano	2004	2005	2006	2007	2008	2009	2010	2011	2012
Área (km ²)	27.772	19.014	14.286	11.651	12.911	7.464	7.000	6.418	4.656

Pergunta 8) Baseado na informação da Tabela coloque um **X** onde é correto afirmar que:

- () A área desmatada em 2012 foi maior que aquela desmatada em 2004.
- () O desmatamento ocorrido em 2008 foi menor que o de 2007.
- () A soma das áreas desmatadas nos últimos quatro anos é menor do que a área desmatada em 2004.
- () A área desmatada tem aumentado ano após ano.
- () O desmatamento não é mais um problema.

8) - Nota obtida: _____

AQUI COMEÇAM AS QUESTÕES DE ENERGIA

Questão 9) (1 ponto) Em 2013 comemora-se o Ano Internacional de Cooperação pela Água. No Brasil a água é a maior fonte de geração de energia elétrica.

Pergunta 9) (1 ponto) (0,25 cada acerto) O desperdício de energia elétrica e de água estão relacionados em muitos casos. Escreva **CERTO** ou **ERRADO** na frente de cada frase.

- Nos prédios a água vai para os apartamentos graças ao motor elétrico que bombeia a água até a caixa de água no topo do prédio.
- Num prédio, até mesmo uma descarga no vaso sanitário implica em consumo de energia elétrica.
- Em prédios, substituir torneiras manuais por automáticas (ligam e desligam com a presença e ausência da mão) implica economizar água.
- Devemos tomar banho rápido para não desperdiçar água e nem energia elétrica.

9) - Nota obtida: _____

Questão 10) (1 ponto) Como você sabe, existem várias formas de se poluir o meio ambiente, como, por exemplo, poluindo rios, lagos, ruas, terrenos, atmosfera, etc. Porém, também existe a poluição luminosa, a qual afeta a beleza do céu.

Pergunta 10a) (0,5 ponto) (0,1 cada acerto) Escreva CERTO ou ERRADO na frente de cada afirmação.

- Iluminando-se o céu prejudica-se o trabalho dos astrônomos.
- Iluminando o céu podemos ver melhor a Lua e os planetas.
- Iluminando a atmosfera estamos desperdiçando dinheiro e energia.
- A iluminação pública deveria só iluminar o chão e não o céu.
- Iluminar a atmosfera ajuda a ver os meteoros!

10a) - Nota obtida: _____

Pergunta 10b) (0,5 ponto) O Sol é a estrela mais importante para nós. Inclusive, muitos astrônomos só estudam o Sol. A quase totalidade da radiação que a Terra recebe provém do Sol. A energia emitida pelo Sol chamamos de **radiação solar**. Sua natureza é a mesma daquela usadas nos fornos de micro-ondas, ou nos rádios e televisores, nos aparelhos de raio X, etc. Todas elas são chamadas de **radiação eletromagnética**. E como você sabe, entre a Terra e o Sol não existe nada exceto vácuo, logo a radiação eletromagnética se propaga também no vácuo e sua velocidade é de **300.000 km/s!** É a maior velocidade conhecida na natureza, porém apesar de grande, ainda é pequena para as grandes distâncias envolvidas na Astronomia. Por exemplo, a distância média da Terra ao Sol é de **150.000.000 km**. Calcule quantos **minutos** a luz gasta para chegar do Sol à Terra. Dado: espaço = velocidade x tempo. Dica: Calcule o tempo em segundos, depois transforme em minutos. Abaixo tem espaço para suas contas. Dica: você só precisa usar "regra de três".

Resposta 10b):

10b) - Nota obtida: _____